

Úkoly na období od 30. 3. do 3. 4. 2020

1. ročník

Matematika PO 30. 3.	Str. 8/ celá Vážení rodiče a milé děti, jsem tu s dalšími úkoly pro úžasné děti. Z celého srdce Vás zdravím. Umíte si již velmi pěkně představit, co je to desítka a jednotka, na str. 8 si vyzkoušíte, jak Vám půjde sčítat. Vzpomeňte si na Plusíka. Můžete si vzít na pomoc Vaši desítkovou lahvičku s fialovými puntíky a červené jednotky si pokládat vedle ní nebo si ji jen představujte. Jako další pomůcku si můžete vystříhnout tričko, které je desítkové, určitě poznáte proč. Zelení smajlíci jsou jednotky. Pokud Vám postačí lahvička, tričko nemusíte stříhat ani je používat.
Pracovní list	Mince


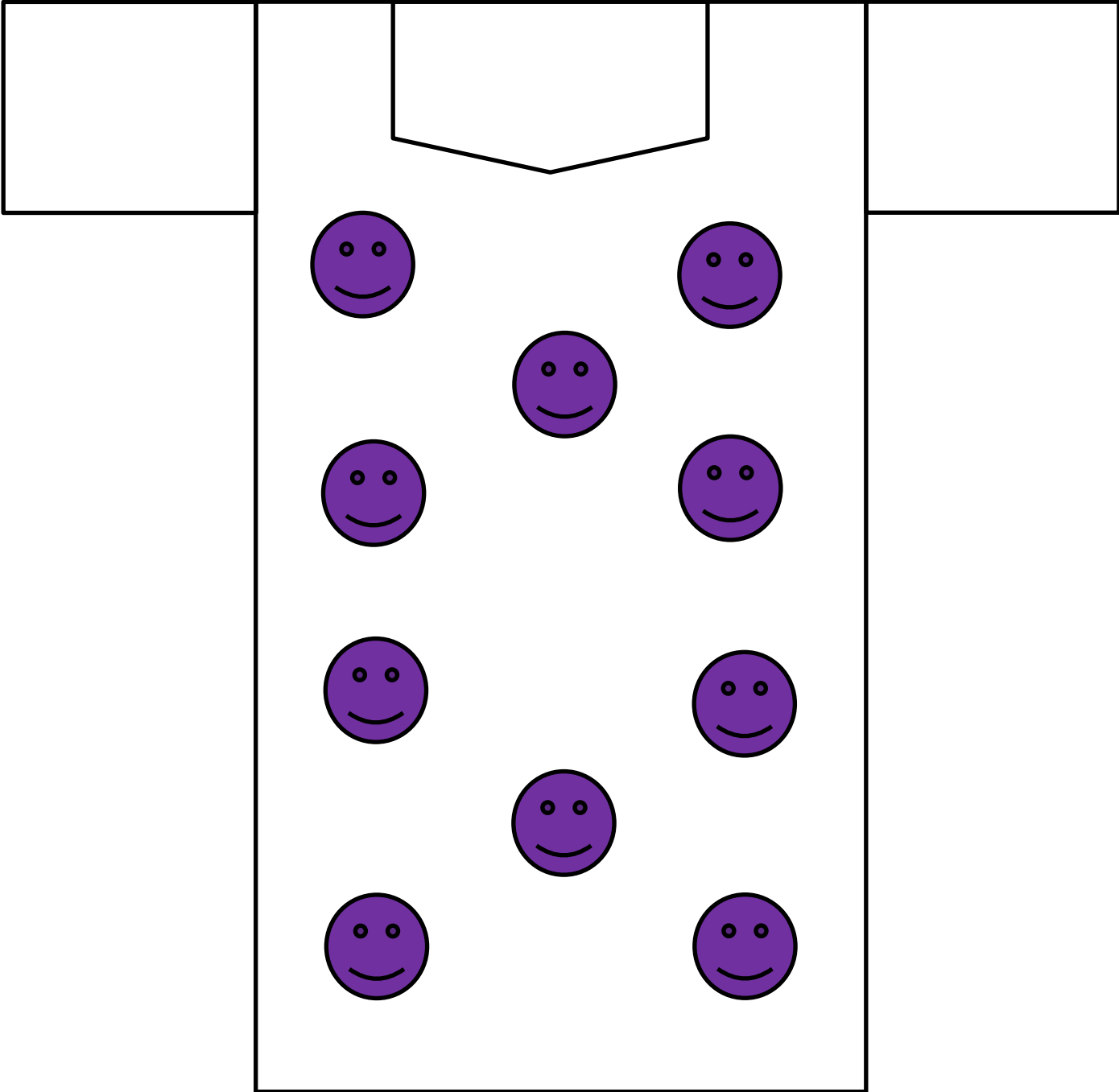
Matematika ÚT 31. 3.	Str. 9/ celá
Počítáme z paměti	Str. 10/ 29
Pracovní list	Str. 7

Matematika ST 1. 4.
Pracovní list	Procvičování

Matematika ČT 2. 4.
Počítáme z paměti	Str. 10/30
Pracovní list	PL / str. 17, 18

Matematika PÁ 3. 4.	Str. 10/ 4 – do učebnice
Pracovní list	Pracovní list – desítky, jednotky, psaní čísel

PO 30. 3.



 Kolik Kč je v  ?

 Co kdo dostal?

  	
---	--

Kč

E.  A  4 Kč

 	10
---	----

Kč

A.  A  Kč

 	
---	--




Kč

I.  A  Kč

  	
---	--

Kč

O.  A  Kč

  	
---	--

Kč

S.  A   Kč

  	
---	--

Kč



L.  A   Kč


 	
---	--

Kč

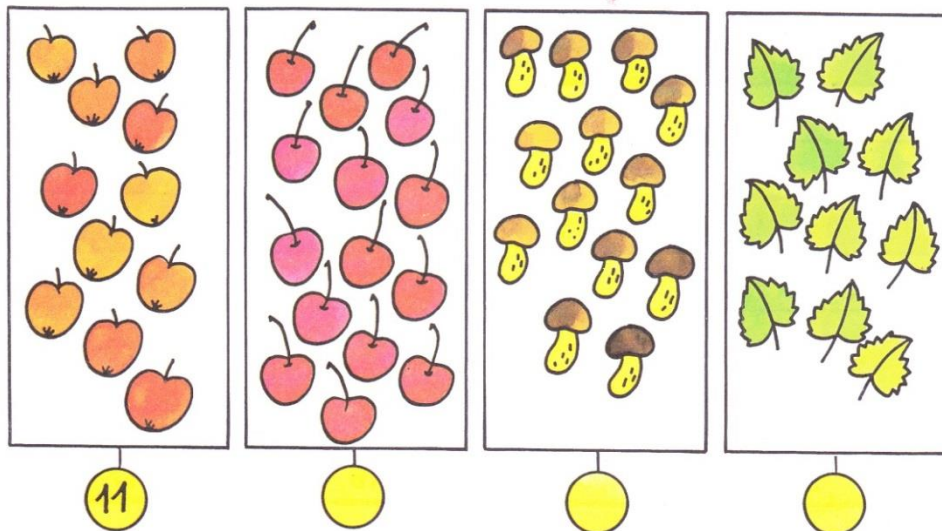
P.  A  Kč

 10 11 12 13 14 15

 Kde je méně než 10 Kč, říkejte, kolik chybí do 10 Kč.
 Kde je více než 10 Kč, říkejte, kolik chybí do 15 Kč.
 Obtahujte čísla a čtěte je.

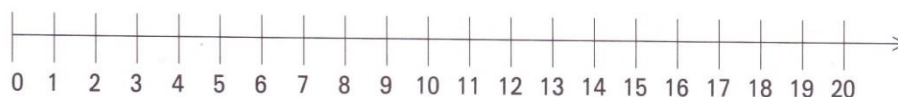
 Říkejte a zapisujte, kolik kdo dostal.
 Např.: „Ivan dostal 7 Kč.“
 K písmenům vymyslejte jména.

1 Spočítej předměty, zapiš čísla a pak je porovnej.



11 < 15	15 13	13 10
15 > 11		

2 Doplně >, <, =.



5 6	12 13	17 18	20 19	15 16
11 10	6 7	14 13	18 19	9 10

3 Doplně >, <, =.

- | | | | |
|---------|---------|---------|---------|
| 11 ○ 12 | 18 ○ 18 | 7 ○ 8 | 6 ○ 5 |
| 13 ○ 13 | 17 ○ 16 | 17 ○ 18 | 16 ○ 15 |
| 15 ○ 14 | 19 ○ 20 | 2 ○ 3 | 9 ○ 10 |
| 17 ○ 10 | 20 ○ 19 | 12 ○ 13 | 10 ○ 11 |
| 18 ○ 20 | 11 ○ 13 | 14 ○ 10 | 10 ○ 10 |

ST 1. 4.

Na linku zapiš příklad podle znázornění.



**

.....



.....



.....



***** **

.....



*

.....



***** *

.....



.....



.....



***** *****

.....

Na linku zapiš výsledky od nejmenšího po největší.

.....

Vypočítej.

$10 + 2 =$

$10 + 3 =$

$2 + 10 =$

$10 + 5 =$

$10 + 7 =$

$8 + 10 =$

$10 + 6 =$

$10 + 9 =$

$7 + 10 =$

$10 + 7 =$

$10 + 5 =$

$4 + 10 =$

ST 1. 4.

Vybarvi stejnou barvou příklad, zaměněný příklad a výsledek.

$10 + 2$	20	$5 + 10$
$10 + 5$	17	$10 + 10$
$10 + 9$	12	$4 + 10$
$10 + 10$	18	$3 + 10$
$10 + 7$	19	$2 + 10$
$10 + 4$	13	$8 + 10$
$10 + 8$	14	$9 + 10$
$10 + 3$	15	$7 + 10$

Napiš číselnou řadu od 0 do 20.

.....

**Paní učitelka koupila dětem do třídy 10 modrých pastelek a 3 červené.
Kolik je to celkem pastelek?**

Znázorni:

Vypočítej:

Nalič odpověď:

Děti narovnaly na koberec 10 kostek zelených a 10 kostek žlutých. Kolik je to celkem kostek?

Znázorni:

Vypočítej:

Napiš odpověď

Paní učitelka na děti stále vzpomíná. Také si připomeňte jejich jména. Kdopak to je?

L V R V B E M N T K N A E

Numerace do 20, přičítání k 10, odčítání s rozdílem 10



Označ dle pokynů.

17 rukavic



19 lopatek



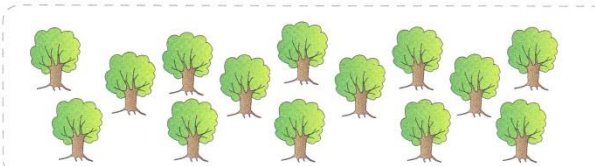
18 ptačích budek



15 holínek



Spočítej obrázky a zakroužkuj číslo, které odpovídá jejich počtu.



11 14 17 18
12 15 16



13 15 19 12 11
14 18 17 16

Dopiš k číselné ose všechna čísla, která utekla.



Čísla stále zlobí. Na volný řádek je srovnej od největšího po nejmenší.

11 19 16 12 15 20 14

.....

Rozlož číslo na desítku a jednotky podle vzoru.

$13 = 10 + 3$

$15 =$

$18 =$

$17 =$

$16 =$

$11 =$

$12 =$







$14 =$

$19 =$

Porovnej čísla. Do kroužku doplň znak $>$, $<$ nebo $=$.

11 13	12 9	16 18	20 10	20 19
14 11	17 19	17 15	19 13	12 16


Zapiš jako příklad na sčítání.

Vypočítej.

$10 + 6 =$	$7 + 10 =$	$10 + 8 =$	$10 + 6 =$
$2 + 10 =$	$10 + 9 =$	$7 + 10 =$	$10 + 8 =$
$10 + 4 =$	$1 + 10 =$	$10 + 3 =$	$3 + 10 =$
$5 + 10 =$	$4 + 5 =$	$0 + 10 =$	$10 + 1 =$

Prohlédni si obrázek a doplň do vět správná čísla.



Na obrázku je kusů ovoce, které roste na zahrádce.

Na obrázku je kusů ovoce, které roste v cizích zemích.

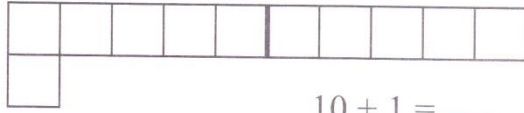
Kolik je na obrázku celkem kusů ovoce?

Výpočet:

• Odpověď: Na obrázku je celkem kusů ovoce.



11

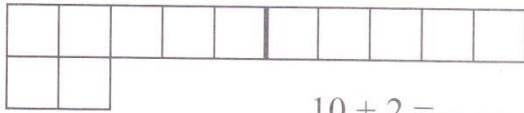


$10 + 1 = \underline{\quad}$

1 desítka
1 jednotka

11

12



$10 + 2 = \underline{\quad}$

1 desítka
2 jednotky

12

13



$10 + \underline{\quad} = 13$

1 desítka
3 jednotky

13

14



$10 + \underline{\quad} = 14$

1 desítka
4 jednotky

14

15



$10 + \underline{\quad} = 15$


1 desítka
5 jednotek


15





11 12 11 12

Doplň správný počet kostek.













13 14 15 13 14 15 13 14

Desítky v prvním cvičení si můžeš vybarvit.

Procvičuj psaní číslic.


11 12

13 14

15 16

17 18

19 20



očíslov sluníčka od 1 do 20.