

Úkoly pro žáky na období od 13. 4 do 17. 4. 2020

2. ročník

Matematika

Tento týden si dáme lehké opakování

- Vypracuj přiložené PRACOVNÍ LISTY
- Do SEŠITU Š napiš na řádek násobky č. 2
a pod to vymysli a zapiš 6 – 8 příkladů na násobení 2.
Stejně tak vypiš násobky č. 3 + příklady na násobení 3.
- PZ 2 – Vypočítej další následující sloupek

S matematikou si můžeš hrát on-line na stránkách
Školákov – matematika 2. třída


<https://skolakov.eu/matematika-2-trida>

12. Násobení a dělení




1. Zakroužkuj dvojice.

+ zapiš příklad




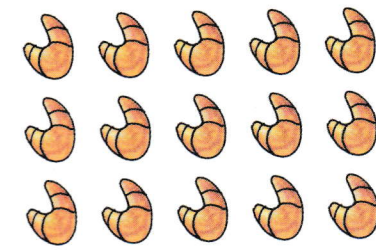


$$5 \cdot 2 = 10$$





2. Vytvoř trojice.

+ zapiš příklad

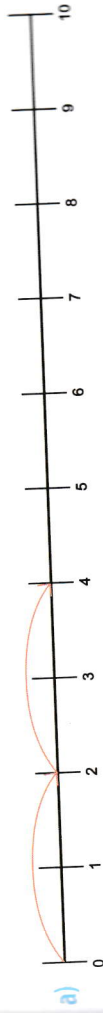


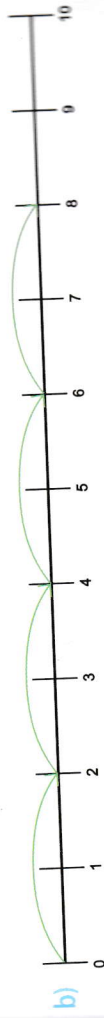
3. Označ čtveřice.

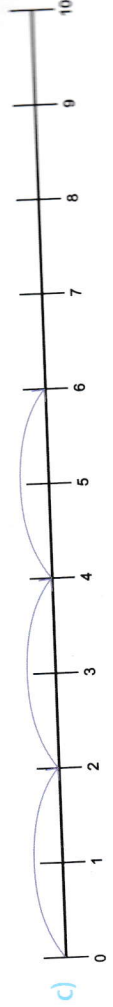
+ zapiš příklad



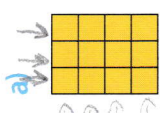
4. Zapiš znázorněné příklady jako sčítání i násobení.










5. Zapiš znázorněné příklady jako sčítání i násobení.


a)  $4 + 4 + 4$ $3 + 3 + 3 + 3$
 nebo $3 \cdot 4$ $4 \cdot 3$


b) 


c) 

d) 

6. Zapiš znázorněné příklady jako sčítání i násobení.

a) 

b) 

c) 

7. Rozděl ovoce. Skupiny vždy zakroužkuj.


 po čtyřech


 po dvou


 po třech


 po sedmi

8. Rozděl čokolády. Pro každé dítě použij jinou barvu pastelky (např. 4 děti = 4 barvy).

čtyřem dětem 

pěti dětem 

třem dětem 

dvěma dětem 

9. Zapiš příklad na dělení.

