

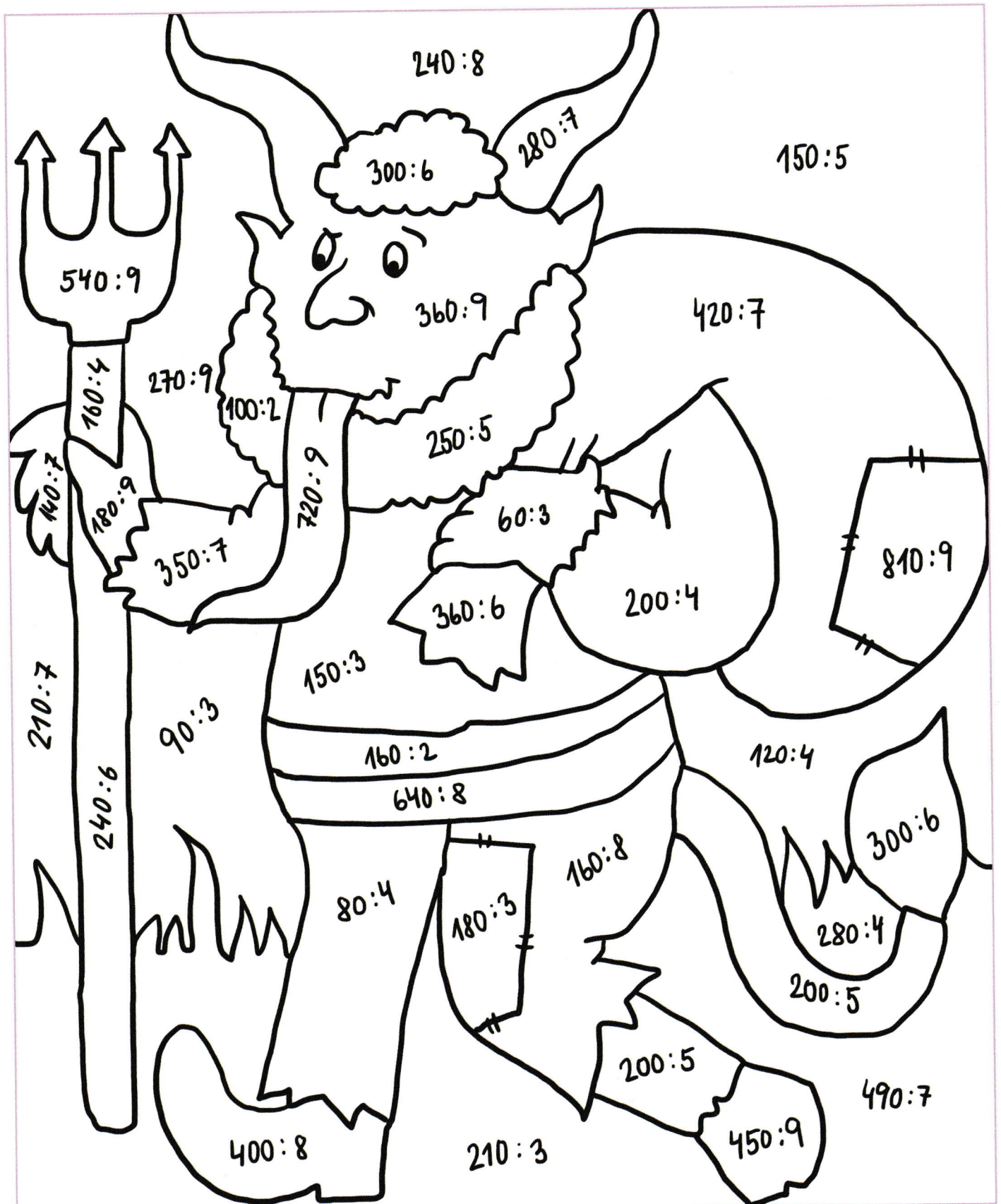
Úkoly pro žáky na období od 11. 5. do 15. 5. 2020









3. ročník


| | |
|-------------------|---|
| <u>Matematika</u> | <p>Milí třetíci, tento týden se opět uvidíme při on-line hodině, a to v úterý 12.5. v 9 h. Nachystejte si <u>pracovní sešit a papíry</u>. Těším se na vás. Edita Nábilková</p> <p>Opakování na tento týden:</p> <ul style="list-style-type: none">• PS str. 24/8 vypracuj 24/9 – dobrovolné• Pracovní listy – procvičuj dělení čísel končících 0 <p>Úkol pro Adélu a Vítka, s nimiž jsme se neviděli na 1.on-line hodině:</p> <ol style="list-style-type: none">1) Zopakuj si, co je kruh, kružnice – rozdíl, Do sešitu G - narýsuj kružnici k o poloměru 5 cm, červeně vyznač poloměr r a zeleně průměr d. Bez měření řekni, kolik cm měří poloměr a průměr kružnice.2) Uč. str. 116 prostuduj přenášení úseček pomocí proužku papíru a kružítka. |
|-------------------|---|



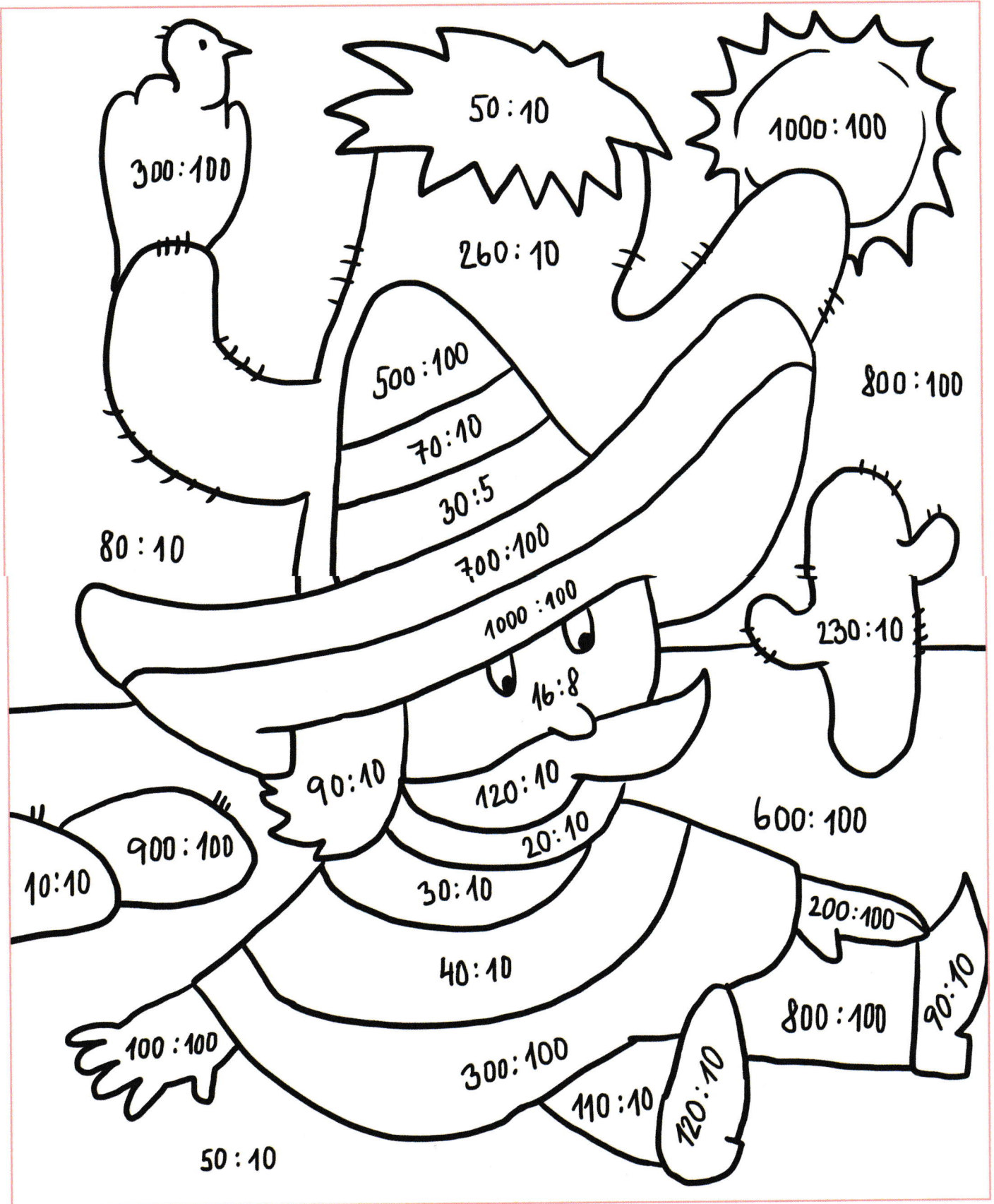
Vypočítej příklady a vybarvi obrázek podle návodu, který je pod ním.



- | | | | | | | | |
|---|---|---|---|---|---|---|---|
| 20 | 30 | 40 | 50 | 60 | 70 | 80 | 90 |
| = šedá | = modrá | = hnědá | = černá | = žlutá | = zelená | = červená | = oranžová |
|  |  |  |  |  |  |  |  |



Vypočítej příklady a vybarvi obrázek podle návodu, který je pod ním.



- 1 a 2 = hnědá
- 3 = růžová
- 4 = fialová
- 5 a 6 = žlutá
- 7 = červená
- 8 a 11 = modrá
- 9 a 12 = černá
- 10 = oranžová
- 23 a 26 = zelená

