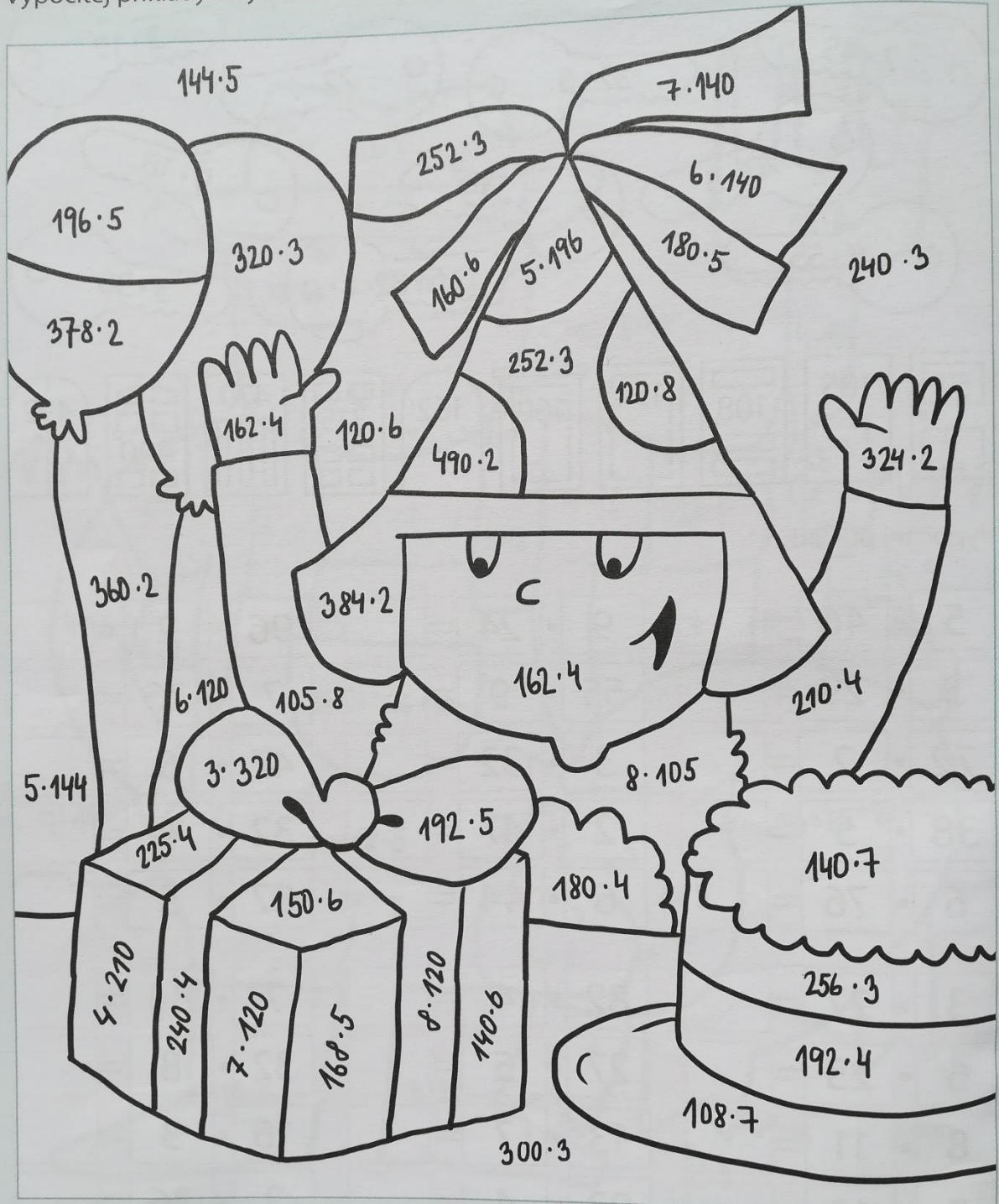










Úkoly pro žáky na období od 23. 3. do 27. 3. 2020

4. ročník

<u>Matematika</u>	<ul style="list-style-type: none">• 112/10, 11,12 do M-š• Vybarvovačka
<u>geometrie</u>	<ul style="list-style-type: none">• Narýsuj do sešitu geometrie Trojúhelník ABC, $a = 5\text{ cm}$, $b = 6\text{ cm}$, $c = 8\text{ cm}$ Čtverec ABCD $a = 5\text{ cm}$ Obdelník ABCD $a = 3\text{ cm}$, $b = 5\text{ cm}$ Kružnici k (S, $r = 5\text{ cm}$), Přímky p, s, tak aby platilo, že $p \parallel s$

Vypočítej příklady a vybarvi obrázky podle návodu, který je pod nimi.



- | | | | | | | | |
|---|---|---|---|---|---|---|---|
| 648
= oranžová | 720
= žlutá | 756
= zelená | 768
= hnědá | 840
= modrá | 900
= červená | 960
= fialová | 980
= růžová |
|  |  |  |  |  |  |  |  |