

Úkoly pro žáky na období od 13. 4. do 17. 4. 2020

4. ročník

Vlastivěda ST 15. 4.	Str. 24, 25
Pracovní list	Str. 14, 15 – vyplnit a nalepit do sešitu

Vážení rodiče a milí čtvrtáci,

opět nastává čas pro Vlastivědu. Vítám Vás u dalšího pokračování povídání o Přemyslovcích. Rozloučili jsme se docela nepříjemnou událostí, při které byli vyvražděni Slavníkovci. Lidé se však museli vrátit ke svému životu a obživě. Stále se převážně živili zemědělstvím. Protože si však dokázali plno věcí vyrobit a byli zručnější, někteří se začali věnovat řemeslům. Své výrobky si na tržnicích neprodávali, ale vyměňovali – výměnný obchod. V učebnici se také dočtete, jak se lidé oblékali.

Lidé byli stále šikovnější a potřebovali být i vzdělanější. Začali ručně psát i opisovat knihy, protože ještě neznali knihtisk. V učebnici najdete informace o tom, kdo knihy opisoval. Naleznete zde také jméno kněze, který napsal první kroniku o historii našich zemí. Na závěr se seznámíte se stavbami, které se v době Přemyslovců stavěly. Byly to stavby v románském stylu a poznáme je podle silných kamenných zdí, malých půlkruhových oken, silných sloupů uvnitř a velmi tmavých prostorů, které byly zdobeny malbami. Stavby měly nejprve kruhovitý tvar, říkalo se jim **ROTUNDY**. Později se stavěly stavby větší, měly obdélníkový tvar, těm se říkalo **BAZILIKY**. V učebnici máte obrázky jednotlivých staveb, tak si je prosím pozorně prohlédněte.

Až si vše přečtete a prohlédnete, odpovězte si ústně na otázky na str. 25.


Posílám Vám dva pracovní listy, kde si vzpomenete na začátek panování rodu Přemyslovců a zopakujete si nové informace.

Mějte se hezky a všechny Vás zdravím. H. Kopáčková

V ČESKÉM STÁTĚ ZA PŘEMYSLOVSKÝCH KNÍŽAT

1. Do prázdných oválů a erbu dopište údaje o českém státě.

Český stát vznikl v 10. století sjednocením slovanských kmenů v  Č

Slovanské kmeny sjednotil rod  P 

V českém státě vládli nejdříve k  a  k  é

2. V osmisměrce se skrývají jména přemyslovských knížat, jejich manželek a matek.

D	E	J	O	V	I	Ř	O	B
U	R	V	Á	C	L	A	V	Y
R	E	A	Z	Y	T	G	O	L
I	X	L	H	U	P	E	N	U
M	A	S	D	O	F	Y	K	D
Y	Z	E	N	D	M	K	A	M
F	A	L	E	Š	N	Í	Ž	I
A	P	O	L	E	K	U	R	L
S	O	B	E	C	G	I	V	A

Jména:

B _____
 B _____
 V _____
 L _____
 D _____

3. Poznáte, kdo jsem? Za obrázky a rébus napište odpovídající slova.

Vychovávala mě moje  _____ Ludmila.

Vlastní bratr BO  LAV _____ mě dal .

Byl jsem prohlášen svatým a Češi mě uctívají jako ochránce české země.

Jsem _____


4. V prázdných rámečcích jsou slova, ze kterých se ztratila některá písmena. Doplňte ztracená písmena zpátky do neúplných slov.

zaměstnání obyvatel českých zemí ve středověku

z m i



ř m i



5. Vyřešte přesmyčky a rébus ve větách, aby věty dávaly smysl. Rozluštěná slova napište za přesmyčky a za rébus.

Ve středověku byli vzdělání pouze ŽÍKNĚ _____ a MŠINI _____.

Prostí lidé a většina NOVPANÍKŮ _____ byli negramotní, to znamená, že neuměli STÍČ _____ ani SPÁT _____.

Nejstarší středověkou kroniku o dějinách Čechů napsal ve 12. století latinsky kronikář




6. Vedle obrázku napište, jakým způsobem se ve středověku rozmnožovaly knihy a kdo byl schopen tuto práci provádět.




7. Za vlády přemyslovských knížat se stavělo v románském slohu.

a) Fotografie spojte šipkami s odpovídajícím názvem stavby.




BAZILIKA

ROTUNDA



b) Označte materiál, který byl použit na stavbu zdí obou románských staveb.



8. Škrtněte nepravdivá tvrzení o románských stavbách.

- Románské stavby mají silné neomítnuté zdi z kamene.
- Okna jsou velká, mají obdélníkový tvar.
- Okna jsou malá, horní část má tvar oblouku.
- Uvnitř je díky velkým oknům dostatek světla.
- V románském slohu se stavěly hlavně zámky.
- Aby klenba nespadla, podpírají ji silné sloupy.
- Klenby nemusely být podepřeny, protože stavby byly nízké.

