

Úkoly pro žáky na období od 16. 3. do 20. 3. 2020


4. ročník

<u>Vlastivěda</u>	Str. 14, 15 – ústně, str. 16 – přečíst, odpovědět si na otázky za kapitolou.
<u>Pracovní list</u>	PL str. 6 – opakování – nalepit, vyplnit. PL str. 7 – opakování – nalepit, vyplnit. PL str. 10 – Slované – nalepit, vyplnit.

8. Podle popisu doplňte, ve kterém období pravěku žili naši prapředci.

a) V přírodě jsme objevili rudu, ze které jsme tavením získali kov. Z něho jsme vyráběli pevné a trvanlivé nástroje i zbraně. Tento kov je tak vynikající, že se používá dodnes.

Žili jsme v _____



b) Živili jsme se ulovenou zvěří, lesními plody, kořínky, semeny a částmi rostlin. Poznali jsme také oheň a časem jsme přišli na to, jak jej rozdělat.

Žili jsme ve _____




c) Usadili jsme se na jednom místě. Vykáceli jsme stromy, vypálili křoviny a začali jsme obdělávat půdu a chovat dobytek.

Žili jsme v _____



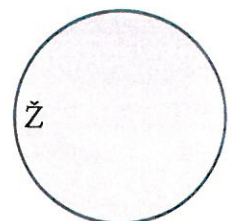
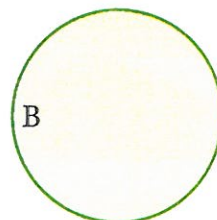



9. Činnosti na obrázcích pojmenujte a запиšte do období pravěku, pro které jsou typické.



starší doba kamenná: _____ mladší doba kamenná: _____ doba železná: _____

10. Ke konci doby kamenné poznali lidé kovy. Do kružnic napište názvy všech kovů, ze kterých vyráběli různé předměty. Dvěma hvězdičkami označte kov, který se sice osvědčil, ale jeho výroba byla drahá. Vyráběl se totiž slitím dvou kovů.

Tři hvězdičky získá kov, který se pro svou pevnost a pružnost nejvíc hodil k výrobě náradí a zbraní.



11. Pravdivé informace o Keltech napište do oválu, nepravdivé vyhod'te do koše. Nemusíte psát celé věty, stačí napsat jen písmena.

a) O Keltech se dozvídáme jen z pověstí.

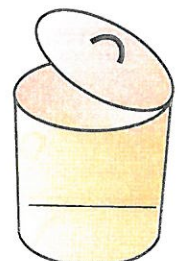
b) O Keltech existují písemné zprávy.

c) Keltové uměli razit kovové mince.

d) Keltové žili pod jednoduchými přístřešky z větví a kůží podobnými stanům.

e) Živili se zemědělstvím, řemesly a obchodem.

f) Znali sklo a hliněné nádoby vyráběli na hrnčářském kruhu.



12. Rozhodněte, zda jsou tvrzení žáků, týkající se pravěku, pravdivá, nebo chybná. Zakroužkujte písmeno pod jednou z možností ANO – NE. Pokud vše označíte správně, vyjde vám tajenka.

	ANO	NE
Po celé období pravěku se lidé živili jen lovem zvěře a sběrem plodů a částí rostlin.	M	P
Ve starší i mladší době kamenné byly nástroje stejné a používaly se ke stejným činnostem.	Y	R
Hlavní obživou lidí v mladší době kamenné bylo zemědělství a chov dobytka.	A	J
V době bronzové a železné přestal být kámen hlavní surovinou na výrobu nástrojů a zbraní.	V	U
Z kovů byl k výrobě nástrojů nejvhodnější bronz.	Z	Ě
Na našem území žili nejprve Keltové, po nich Germáni.	K	O

Tajenka: _____

13. Do jednotlivých pytlů napište pojmy podle toho, ke kterému období pravěku se vztahují.



Pojmy: Keltové; tlupa; bronzové šperky; poznání ohně; kovové mince; sběr a lov; pěstování obilí; Germáni; vrtání otvorů do kamene; hradiště; sošky zvířat a žen; slévání cínu a mědi; chov dobytka.

III. JAKÝ BYL STŘEDOVĚK

SLOVANÉ SE STĚHUJÍ

1. Doplňte a odpovězte.

a) Slované k nám přišli v 5.–6. století našeho letopočtu. Usazovali se u velkých řek

na

M					
---	--	--	--	--	--

 a v

Č				
---	--	--	--	--

.


b) Čím byly řeky pro Slované užitečné?

c) Jak mohou řeky lidem škodit?

2. Kde byste se usadili v neznámé krajině? Svoje rozhodnutí zdůvodněte.

a) na  , protože _____

b) u  , protože _____

c) v hustém  , protože _____



3. Do vět doplňte chybějící údaje o Slovanech.


S příchodem Slovanů končí v naší zemi _____ a začíná _____.
Podle pověsti k nám slovanské kmeny přivedl _____.
Slované se tady usadili a začali obdělávat _____ a chovat _____.
Jednotlivé kmeny se navzájem nestýkaly, protože je oddělovaly husté _____ a velké _____.


4. Za obrázky napište na linky slova odpovídající obrázkům.

Slované uskladňovali vymlácené  _____ v obilních 

_____. Jámu plnou  _____ přikryli  _____, hlinou

a  _____, aby do ní nemohl vzduch. Takto uskladněné  _____

vydrželo několik let. Slované měli své bohy. Uctívali je na vrcholcích hor a 

_____, u pramenů  _____, zkrátka v přírodě.