

Úkoly pro děti na období od 20. 4. do 24. 4. 2020

Vážení rodiče a milé děti,

Vlastivěda je opět na řadě a vítám Vás u dalšího kousku našich dějin. Děti, nejprve si prosím zopakujte informace, které jste již získali.

Na str. 26 si odpovězte na otázky.

Na str. 27 se vydáme za dalšími důležitými panovníky rodu Přemyslovců, kteří nám svými jmény trochu zamotají hlavu, ale my si vše pěkně ujednotíme.

Prvním z nich byl **Přemysl Otakar I.**, který si vydobyl výsadu, že se **královský titul bude dědit z otce na syna**. Z knížectví se stává království se sídlem na Pražském hradě. Znakem tohoto království je stříbrný lev v červeném poli. Právo o dědičnosti královského titulu, bylo v roce **1212** potvrzeno smlouvou, která se nazývá **Zlatá bula sicilská**.

Přemysl Otakar I. měl dvě děti. Syn se jmenoval **Václav I.** a dcera se jmenovala Anežka. Václav zdědil trůn, Anežka vstoupila do kláštera, založila v Praze nemocnici, pečovala o chudé a byla prohlášena za svatou.

Václav I. měl také syna a pojmenoval ho po svém dědečkovi **Přemysl Otakar II.** Byl statečným bojovníkem, těžil stříbro, proto mu také říkali král železný (podle brnění) a zlatý (podle bohatství). Zakládal nová města.

Přemysl Otakar II. měl opět syna a pojmenoval ho **Václav II.**, dočtete se, že byl vězněn a v dospělosti se stal i králem polským.

Také Václav II. měl syna, jmenoval se **Václav III.**, začal panovat jako šestnáctiletý, byl králem tří království, ale po roce vlády byl v Olomouci zavražděn.

Václav III. neměl syna, byl posledním mužským potomkem rodu Přemyslovců. Pokud tento poslední mužský potomek zemře, říkáme, že rod vymřel po meči.

Děti, posílám Vám zápis, který si nalepíte do sešitu. Máte zde stručně zapsány informace, které patří ke každému panovníkovi z rodu Přemyslovců. Když si je napíšeme pěkně po sobě, tak budeme mít jasno. Mějte se hezky. H. K.

Přemysl Otakar I., Václav I., Přemysl Otakar II., Václav II., Václav III.

Přemyslovci s dědičným královským titulem

Přemysl Otakar I.

- získal dědičný královský titul
- zapsáno v listině Zlatá bula sicilská r. 1212

Václav I.

- měl sestru Anežku, která v Praze založila nemocnici
- starala se o chudé a nemocné, byla prohlášena za svatou

Přemysl Otakar II.

- král železný a zlatý
- vyhrával bitvy, těžba stříbra v Jihlavě a v Kutné Hoře
- zakládal nová města

Václav II.

- jako dítě byl vězněn,
- nechal razit pražské groše, stal se také polským králem

Václav III.

- byl králem českým, polským a uherským
 - byl poslední mužský potomek rodu Přemyslovců
- Přemyslovci vymírají po meči.**

V ČESKÉM STÁTĚ ZA PŘEMYSLOVSKÝCH KRÁLŮ


1. Ve 13. století se česká knížata konečně dočkala vytouženého dědičného královského titulu.

Ke jménům českých králů z rodu Přemyslovců přiřad'te odpovídající skutečnosti. Do koleček pod jména panovníků napište malá písmena označující jejich charakteristiku.

			
PŘEMYSL OTAKAR I.	PŘEMYSL OTAKAR II.	VÁCLAV II.	VÁCLAV III.
○	○	○	○

- říkalo se mu „král železný a zlatý“;
- získal dědičný titul „král“;
- byl králem ve třech zemích, zároveň poslední Přemyslovec na českém trůnu;
- dal razit nové mince – pražské groše.

2. Pod první dva znaky napište, který měli ve znaku čeští králové z rodu Přemyslovců a který česká knížata z rodu Přemyslovců. Třetí pole zatím zůstane prázdné, dokud nezjistíte, jaký znak má obec, ve které žijete. Tento znak potom do prázdného pole nakreslete.



3. Odpovězte na otázky týkající se velkého státního znaku České republiky.




a) Na kolik polí je znak rozdělen? _____

b) Která dvě pole jsou úplně stejná? _____

c) Který ze znaků byl používán už ve 13. století v českém státě za vlády králů z rodu Přemyslovců? _____


4. Rozluštěte rébusy.



5. Roztříd'te události označené písmeny do jednotlivých erbů. Zapisujte jen písmena.

České knížectví
za Přemyslovců





České království
za Přemyslovců 



Události: A) za vlády Boleslava se razí stříbrné denáry; B) zakládání měst; C) vyvraždění rodu Slavníkovců; D) razí se pražské groše; E) Bořivoj a jeho manželka Ludmila se dali pokřtít; F) Zlatá bula sicilská; G) zavraždění sv. Václava; H) vymření Přemyslovců po meči.

6. Za přemyslovských králů české země vzkvétaly a bohatly. Když správně seřadíte rozházená písmena v jednotlivých trojúhelnících, objevíte názvy toho, co králové budovali, a názvy odvětví, která se v té době nejvíc rozvíjela.

Řešení napište do prázdných rámečků.

Ě
T
A M S

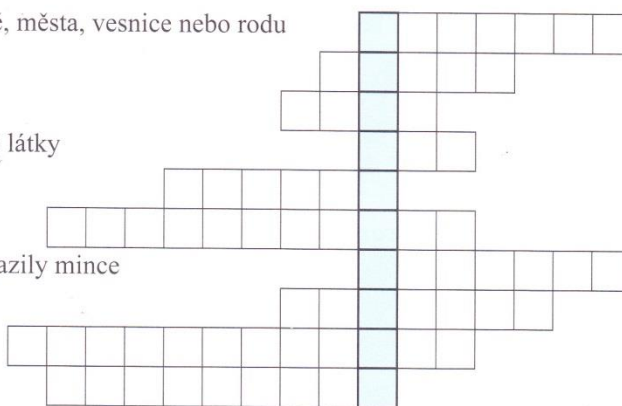
R Y D
H A

L
E A S
E Ř M

B O C H
D O

7. Vyluštěte tajenku.

1. kniha zaznamenávající historii země, města, vesnice nebo rodu
2. kamenná sídla králů a šlechticů
3. vládce království
4. rostlina, ze které ve středověku tkali látky
5. kov, který nahradil bronz
6. rod, který založil český stát
7. kov, ze kterého se za Přemyslovců razily mince
8. románský kostelík ve tvaru válce
9. lidé se na venkově živilí hlavně
10. název země, kde vládne kníže



Tajenka: _____