

Úkoly pro děti na období od 25. 5. do 29. 5. 2020

Vlastivěda 5. ročník

Vážení rodiče a milé děti, vítám Vás u Vlastivědy.

Dostáváme se do událostí posledních let. Na str. 42 si přečtete o vstupu ČR do dvou důležitých organizací.

Rok 1999

- vojenské společenství NATO (Severoatlantická aliance) – organizace, která zemím zajišťuje vojenskou pomoc v případě napadení

Rok 2004

- EU (Evropská unie) – hospodářský spolek – cílem je spolupráce mezi členy, pomoc méně vyspělým zemím, práce a studium v zemích EU, dovoz zboží, péče o životní prostředí, ...

Česká republika je také členem OSN – Organizace spojených národů. V roce 1945 bylo Československo mezi zakládajícími členy této organizace.

Po rozdělení v roce 1993 jsme byli znovu přijati jako Česká republika.

Dále si prosím přečtete zajímavosti o cestování přes hranice a propojování zemí, které nazýváme globalizace.

Str. 43 Vám přinese informace o problémech současné doby, mezi které patří **finanční krize** způsobující nezaměstnanost a zadluženost, dále **terorismus** a **znečišťování životního prostředí**.

Mezi nejnovější změny v ČR patří přímá volba prezidenta republiky. Poprvé se tak stalo v roce 2013.

Vlastivěda	<ul style="list-style-type: none">- str. 42, 43- pracovní listy – prosím vyplnit, nalepit
------------	--

Důležité události z našich dějin si v příštích dnech ve škole připomenete sledováním dokumentů.

Mějte se hezky. Paní učitelka Helena



OPAKOVÁNÍ – NAŠE REPUBLIKA PO VÁLCE A PO SAMETOVÉ REVOLUCI

1. Jak se jmenuje muž na fotografii, který se stal po skončení 2. světové války v roce 1945 prezidentem Československa?



(1 bod)

2. Území naší republiky se po 2. světové válce:

- a) zvětšilo;
- b) zmenšilo;
- c) zůstalo stejné, jako bylo před válkou.

(1 bod)

3. Jak došlo k tomu, že v roce 1948 přestala být naše republika demokratickým státem? Vyberte vysvětlení, které jediné **není** pravdivé.

(1 bod)

- a) Volby vyhrála jediná politická strana – komunisté. Ve státě o všem rozhodovali pouze oni.
- b) Stát sebral (znárodnil) soukromým vlastníkům jejich majetek, občané ztratili mnoho práv.
- c) Lidé začali podvádět, krást, lhát, závidět si.

4. Proč do Československa přišli v srpnu 1968 vojáci cizích států?

- a) Aby zabránili změnám, které měly znovu vrátit lidem jejich práva.
- b) Protože se u nás mělo konat společné cvičení vojsk několika zemí.
- c) Protože jsme neměli vlastní armádu, takže cizí vojáci měli chránit naše hranice.



5. Podzim roku 1989 přinesl konec vlády komunistů a velké změny. Došlo k nim bez boje a násilí. Jak se proto těmto událostem říká?

(1 bod)

- a) klidná revoluce; b) veselá revoluce; c) sametová revoluce.

6. Rozluštěte jméno člověka, který byl v roce 1989 zvolen prezidentem naší republiky: CÁLVAV VALHE
Pod kterým písmenem je jeho portrét?



(1 bod)

7. Výraz „svobodné volby“ znamená, že:

(1 bod)

- a) Mohou volit jen ti, kdo neuzavřeli manželství.
- b) Člověk si může svobodně vybrat, které z mnoha politických stran dá ve volbách svůj hlas.
- c) Mohou volit jen ti, kdo nejsou ve vězení.

8. Jak se nazývá republika, ve které v současnosti žijeme?

(1 bod)

- a) Československá republika; b) Českomoravská republika; c) Česká republika.

9. Spojte jednotlivé letopočty s názvem organizace, do které Česká republika vstoupila.


(1 bod)

- a) EU A) 2004
- b) NATO B) 1999

10. „SAMETOVÁ REVOLUCE“, ČR V POSLEDNÍCH LETECH

1. Doplňte a vyluštěte tajenku.

1. platidlo
2. úzká cestička
3. první jarní květina
4. přístroj na výběr bankovek
5. část počítače
6. jídlo v plechovce
7. podzemní část stromu
8. otvor do místnosti
9. nádoba na uchování teplých nápojů
10. helikoptéra
11. zmenšený model Země
12. tvrdý střed ovoce
13. oblečení sportovce




TAJENKA:



2. V obdélníku je spousta písmen. Některá se vyskytují dvakrát, některá jen jednou.

- a) Vyškrtejte všechna písmena, která se vyskytují dvakrát. Ze zbývajících písmen sestavte název jednoho z měsíců roku.

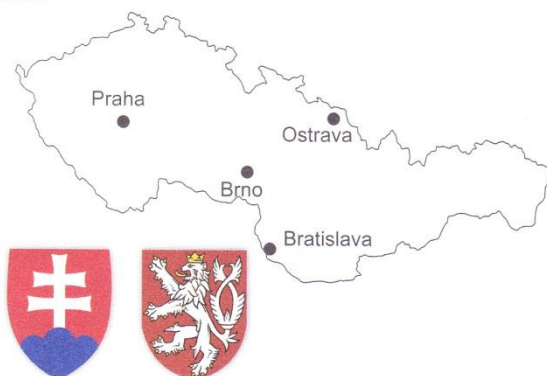


TAJENKA:

- b) Společně si povídejte o událostech, které se v tomto měsíci roku 1989 v naší republice staly.

3. Za čtyři roky po „sametové revoluci“ se Československo rozdělilo na dva samostatné státy.

- a) Na mapce Československa po druhé světové válce udělejte předěl v místech, kde se v roce 1993 republika rozdělila.
- b) Do mapky napište názvy obou rozdělených států.
- c) Připojte šipkami státní znaky k příslušným republikám.



4. K symbolům napište, co označují.



.....

.....

.....

