

Matematika 1. ročník od 9. 11. do 13. 11. 2020

Vážení rodiče a milé děti,

vítám Vás u matematiky. Minulý týden jsme se seznámili s Minuskou a budeme si s ní hrát a počítat i dále, abychom si vše pěkně pocvičili. Čeká na Vás opět práce v učebnici a nový pracovní sešit, ve kterém budete počítat jako velcí školáci. Procvičíte si také geometrické tvary. Než se nadějeme, budeme mít všechnu práci za sebou. Mějte se hezky, ať se Vám pěkně daří.

Vaše paní učitelka Helena





PO 9. 11.	Uvolňovací cviky – Psaní číslíc str. 5/ 4 ř.
ÚT 10. 11.	Pracovní list - procvičování Učebnice str. 23/ celá – bez zeleného cvičení
ST 11. 11.	Počítáme z paměti str. 1/ 1 Pracovní list – geometrické tvary Pracovní list – dokreslit obrázek
ČT 12. 11.	Učebnice str. 23/ zelené cvičení do sešitu, str. 24/ celá – bez zeleného cvičení
PÁ 13. 11.	Učebnice str. 25 / celá

5△

1 , ?A. A <, >, =.

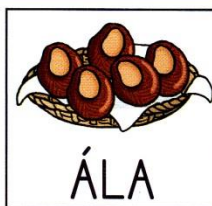

OLA MÁ 2



2 5

MÁMA MÁ 5



ELA MÁ 5



5 5

ÁLA MÁ 5

ÁLA MÁ 5



5 3

EMA MÁ 3

2 A



3 <, >, =.

5 2

2 4

5 4

2 2

3 2

5 5

1 5

1 2

2 5

4 1

3 1

4 3

3 3

3 5

4 4


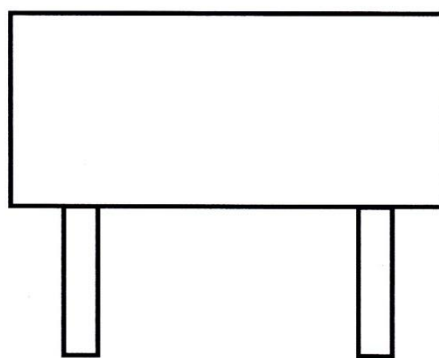
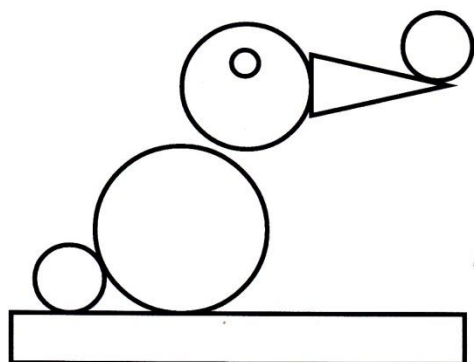


5 3

1 „Přečti, utvoř otázky a odpovědi a napiš menší, větší, rovná se.“ Žák přečte zadání úlohy, utvoří otázky, odpoví na ně a dopíše do rámečků správné symboly.

3 „Napiš menší, větší, rovná se.“ Žák napíše mezi čísla správný symbol.

2 „Nakresli a napiš.“ Žák nejdříve dokreslí do rámečku podle čísla pod ním počet teček, dopíše chybějící číslo a potom dopíše mezi čísla správné symboly <, >, =.

Které geometrické tvary vidíš na obrázku?
Všechny **čtverce** vybarvi modře, **trojúhelníky** červeně, **obdélníky** zeleně a **kruhy** budou žluté.



Dokresli spodní obrázek tak, aby vypadal stejně jako ten nahoře.

