

Matematika 2. ročník 2.11.- 6.11.

Druháčci, matematiku budeme dělat společně na skypu. Pokud se nepřipojíte nebo něco nestihneme, doděláte si zbytek sami.

Práce na skypu:

Str. 23/ 1 – slovní úloha

str. 23/2 – zase jen škrtní modrých koleček a výpočet příkladu ve třetí části tabulky, pokud někdo potřebuje rozklad, vyplní i tu prostřední tabulku

str. 23/4 – vypočítejte

Práce na úterý:

str. 23/3 – opište příklady do M-Š a vypočítejte

str. 23/6 do M-Š namalujte loďku se 7 dětmi a druhou loďku s osmi dětmi, napište pod obrázek příklad a vypočítejte. Kolik se vezlo celkem dětí?

Práce na středu:

str. 24/2 – zase můžete vynechat prostřední sloupeček

str. 24/3 – vypočítejte

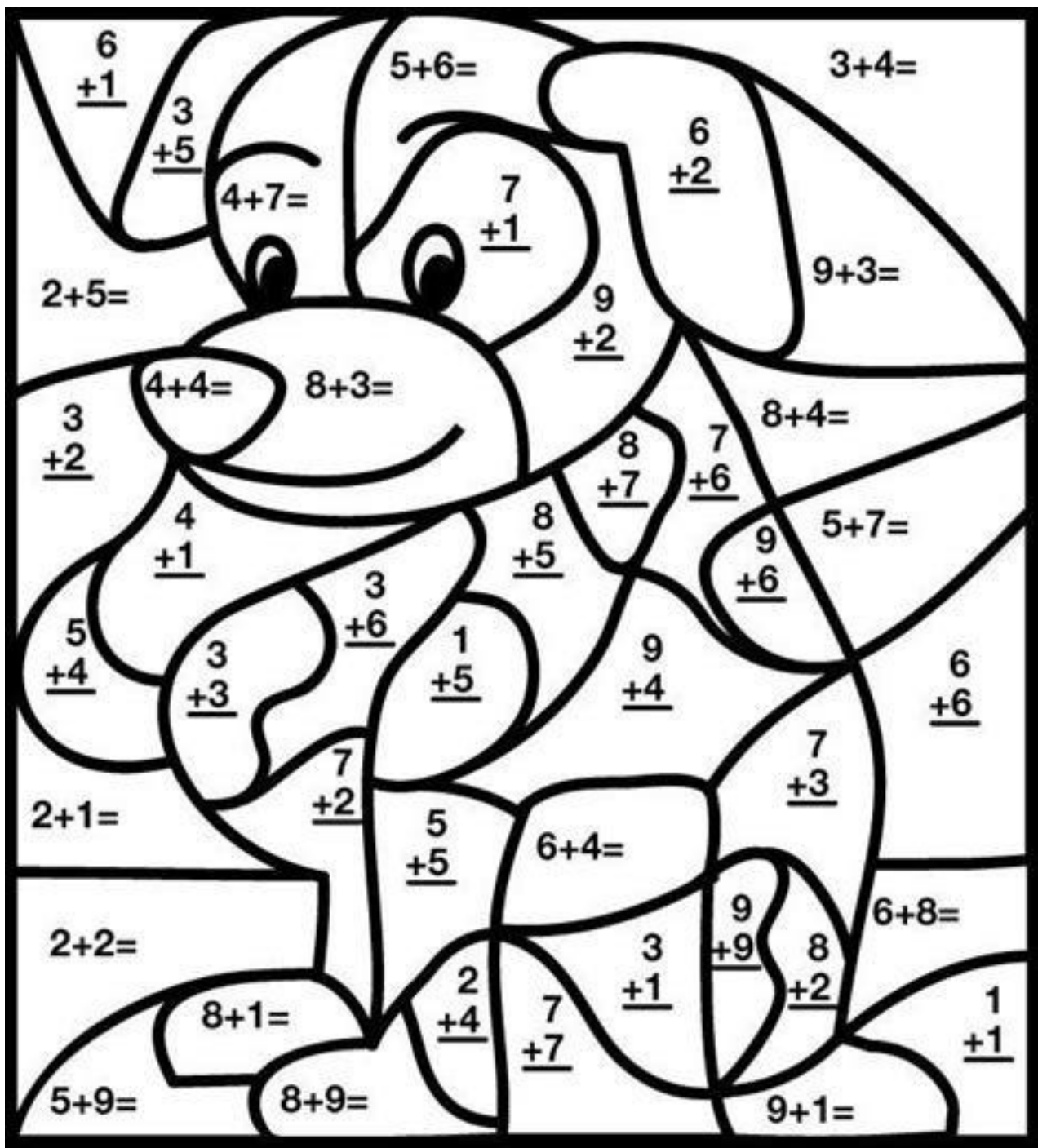
Práce na čtvrtek:


str. 24/ 4 – opište do M-Š a vypočítejte

Práce na pátek:

vypočítejte dva sloupečky v počítáme zpaměti – str. 22 – sloupeček 63, 64

Pokud by někdo chtěl, může zase vybarvovat



 Brown 9, 10, 11, 13, 17

 Green 2, 4, 14

 Black 6, 8, 15, 18

 Sky Blue 3, 5, 7, 12

Brown = hnědá
black = černá

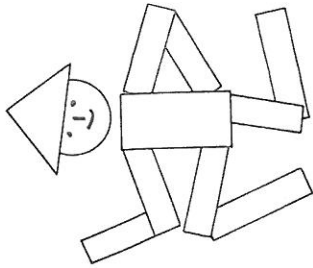
green = zelená
sky blue = modrá

Geometrie

- Milí žáci, zdravím Vás a zasílám vám podklady pro další hodinu geometrie. Uvidíme se spolu ve středu od 8.30 na distanční online výuce. Zopakujeme si společně geometrické tvary a geometrická tělesa.
- V tomto týdnu si na ofocený papír 1 a 2, který Vám posílám, vystříhnete geometrické tvary na papíru 3 a 4 a pokuste se z nich sestavit nějaké zvíře, které potom nalepíte na papír 1 a 2.
- Pokud budete potřebovat poradit, vše si vysvětlíme na online výuce. Ať se Vám daří.

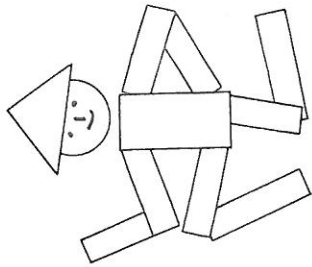
1


Na tuto stránku si nalep zvířátka, která jsi sám/a sestavil/a z vystříhaných obrázků pro svého Kryšpínka.




2

Na tuto stránku si nalep zvířátka, která jsi sám/a sestavil/a z vystříhaných obrázků pro svého Kryšpínka.

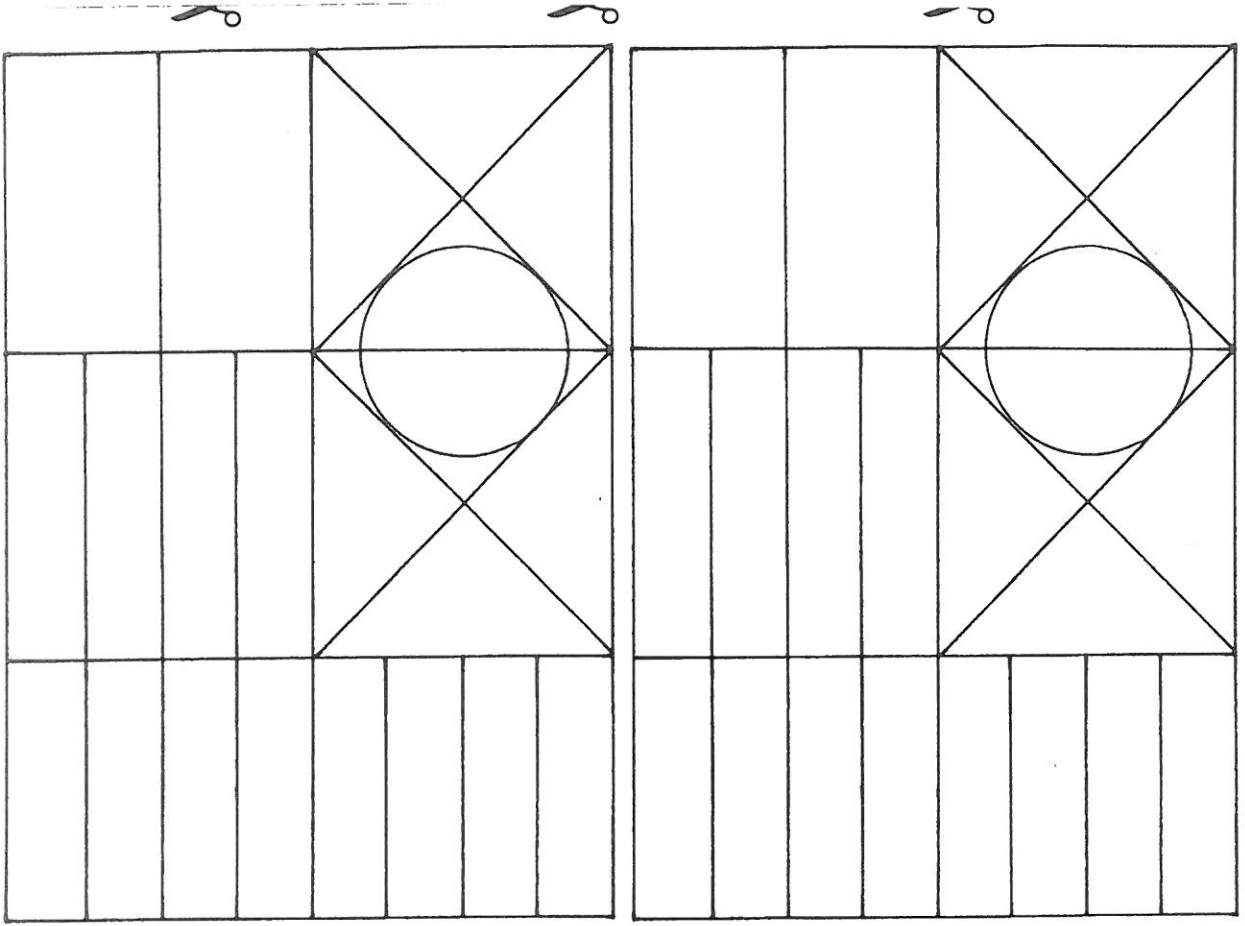




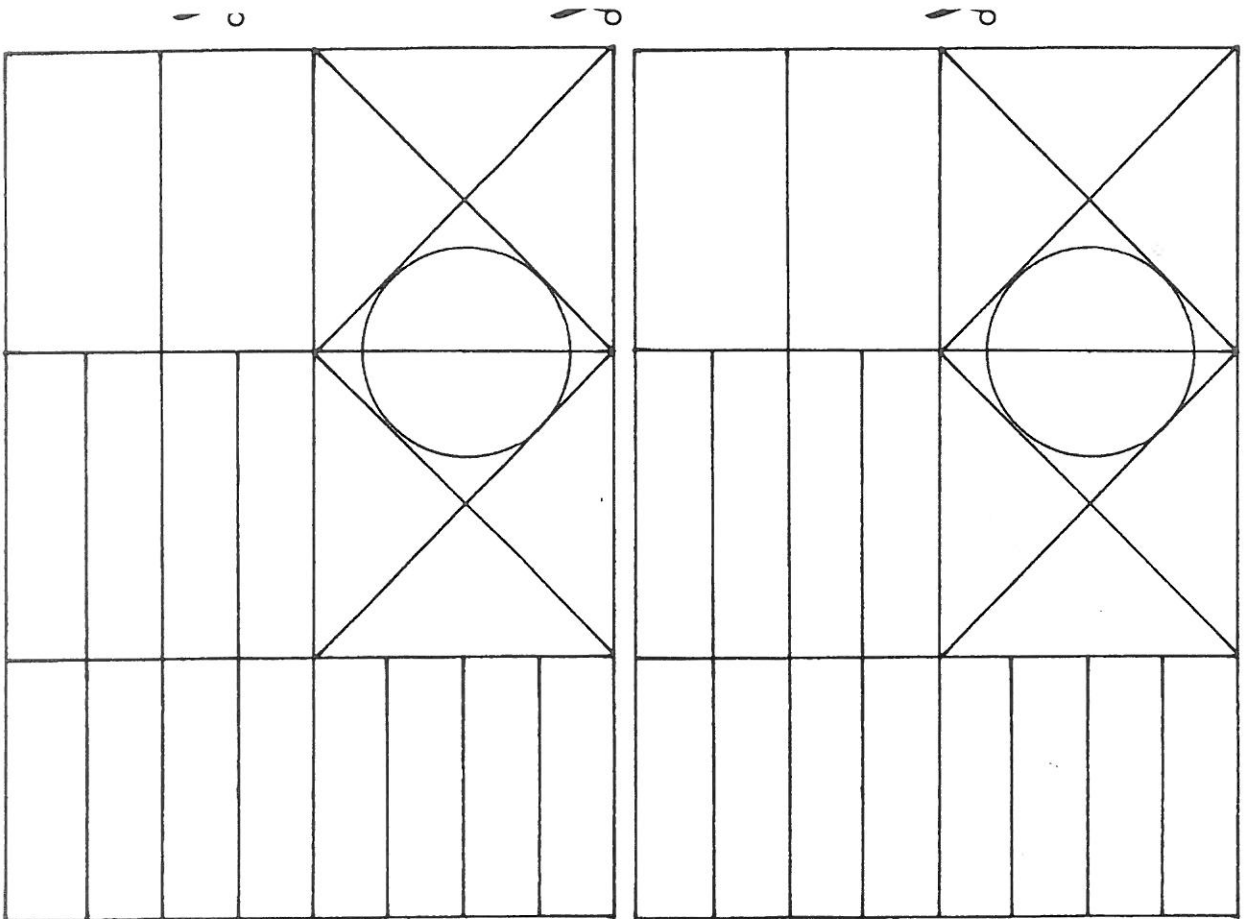
3



3



14



14