

Matematika 1. ročník od 22. 3. do 26. 3. 2021

PO 22. 3.	Pracovní listy – procvičování + slovní úlohy
ÚT 23. 3.	Matematika str. 1, 2, 3/ 1
ST 24. 3.	Opakování a procvičování – Počítáme z paměti str. 11/ 31, pracovní list – rybáři
ČT 25. 3.	Matematika str. 3/ dokončit, str. 4/ celá
PÁ 26. 3.	Matematika str. 5/celá

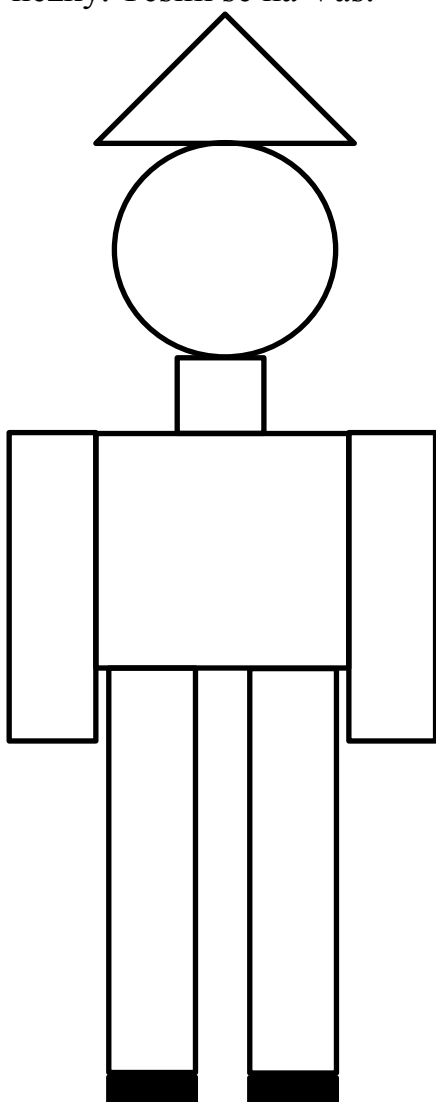
Vážení rodiče a milé děti,

srdečně Vás zdravím u Matematiky. V tomto týdnu již nahlédneme do nové učebnice a budeme na plné obrátky pracovat s desítkou a jednotkami. Stále si však musíme procvičovat sčítání a odčítání do deseti na pracovních listech.


Pro radost posílám panáčka z geometrických tvarů na vybarvení.

Mějte se hezky. Těším se na Vás.

Vaše paní učitelka Helena



1 Spočítej čtverečky ve sloupcích a výsledek zapiš.



10 ○



10

9



10 10



9 2 5 7 9 2 4

3 8 2 4 9 6 2

10 4 6 3 5 4 2

4 7 6 6 9 4 10

5 4 6 4 7 4 10

6 9 5 3 7 1 0

10 □



3 4

2

6

10 9

10 8

7

9

4 6

5 7

0

3

9 6



8 + 2 =

1 + 9 =

7 + 3 =

5 + 5 =

5 + 3 =

3 + 6 =

7 + 0 =

2 + 4 =

6 + 4 =



9

4

10

6

8

3

2

2

0

4

5

10

0

7

8

1

8


0

6

6


Slovní úlohy

- 1 U Nováků na zahradě roste 6 jablek a 2 hrušně. Kolik stromů tam roste celkem?



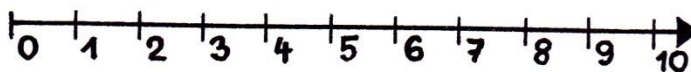
Na zahradě roste celkem stromů.

- 2 U nás na zahradě bylo celkem 10 stromů. 3 stromy otec pokácel. Kolik jich tam zůstalo?



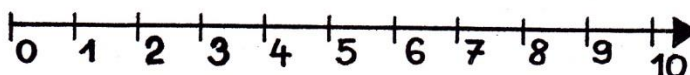
Zůstalo tam stromů.

- 3 Na zahradě byla 3 políčka zelí a 2 políčka cibule. Kolik tam bylo políček zelí a cibule dohromady?














Celkem tam bylo políček.

- 4 Na zahradě se pásly 4 ovce. Hus tam bylo méně. Kolik tam mohlo být hus?







Hus tam mohlo být

1 Počítej podle vzoru.

 <p>1 desítka 12 2 jednotky</p>	 <p>___ desítka  ___ jednotka</p>
 <p>___ desítka  ___ jednotek</p>	 <p>___ desítka  ___ jednotek</p>
 <p>___  ___</p>	 <p>___  ___</p>

2 Počítej.

 <p></p>	 <p></p>
--	--



Vypočítej příklady a ryby vybarvi podle barvy svetru rybáře, který má na hrudi správný výsledek. Zakroužkuj rybáře, který ulovil nejvíce ryb.

