

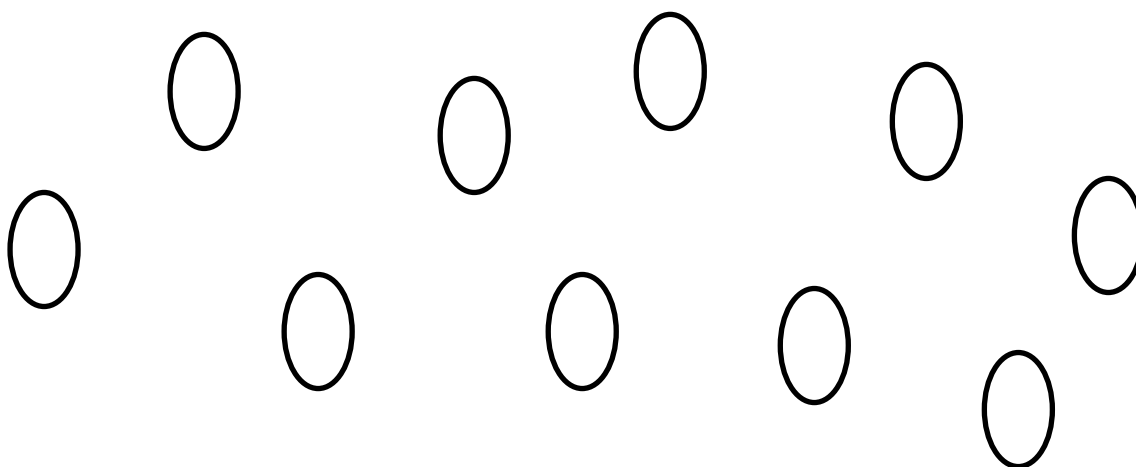
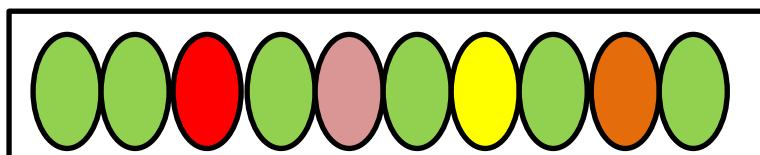
Matematika 1. ročník od 29. 3. do 2. 4. 2021

PO 29. 3.	Matematika str. 6/ celá, pracovní list
ÚT 30. 3.	Matematika str. 7, 8/ celá, pracovní list
ST 31. 3.	Matematika str. 10/ celá DÚ – pracovní list – slepička
ČT 1. 4.	Velikonoční prázdniny
PÁ 2. 4.	Státní svátek – Velký pátek

Vážení rodiče a milé děti,


vítám Vás u Matematiky. Tento týden si budeme stále hrát s desítkami a jednotkami, abychom se je naučili dobře poznávat a počítat. Protože jsou před námi Velikonoce, tak se potěšíme s barevnými vajíčky. Označíme je správným číslem a vybarvíme. Ať se Vám daří. Těším se na Vás.

Vaše paní učitelka Helena



B2

1 A NAPIŠ.



14 = 10 +






15 = 10 +

11 = 10 +




13 = 10 +

12 = 10 +

2 A NAPIŠ.



3 A NAPIŠ.



4 A NAPIŠ.

11	12		
----	----	--	--

	12		14	
--	----	--	----	--

	9	10		
--	---	----	--	--

15	14		
----	----	--	--




	4			7
--	---	--	--	---

	13			10
--	----	--	--	----

B3

1 , **?A.**,  NA OSU A NAPIŠ.

JÁRA MÁ NA  4 MAŠLE.
 PAVEL MÁ NA  12 MAŠLÍ.
 ŠIMON MÁ NA  12 MAŠLÍ.
 IVAN MÁ NA  14 MAŠLÍ.



2  **1** A NAPIŠ ANO/NE.

JÁRA MÁ 4 MAŠLE. _____ JE $14 > 4$? _____
 IVAN MÁ 12 MAŠLÍ. _____ JE $14 > 14$? _____
 PAVEL MÁ 14 MAŠLÍ. _____ JE $4 > 12$? _____

3 NAPIŠ $<$, $>$, $=$.

12	15	12	12	8	6	15	14	11	3
13	14	14	4	6	11	4	11	7	12
3	13	4	14	0	10	12	2	12	14
15	5	11	10	13	12	15	15	11	11

Vypočítej příklady a obrázek vybarvi.



růžová
2

červená
3

žlutá
4

zelená
6

hnědá
7

oranžová
8

černá
9