

Matematika 2. ročník 15.3. - 19.3. 2021

Druháčci, budeme procvičovat společně písemné sčítání a odčítání. Budeme také počítat do 100 a upevňovat to, co už umíme.

Pokud budete chtít více procvičovat, můžete si počítat všechny volné sloupečky v počítáme z paměti, které mají nižší číslo sloupečku než 58.

Naskenovaná práce je dobrovolná.

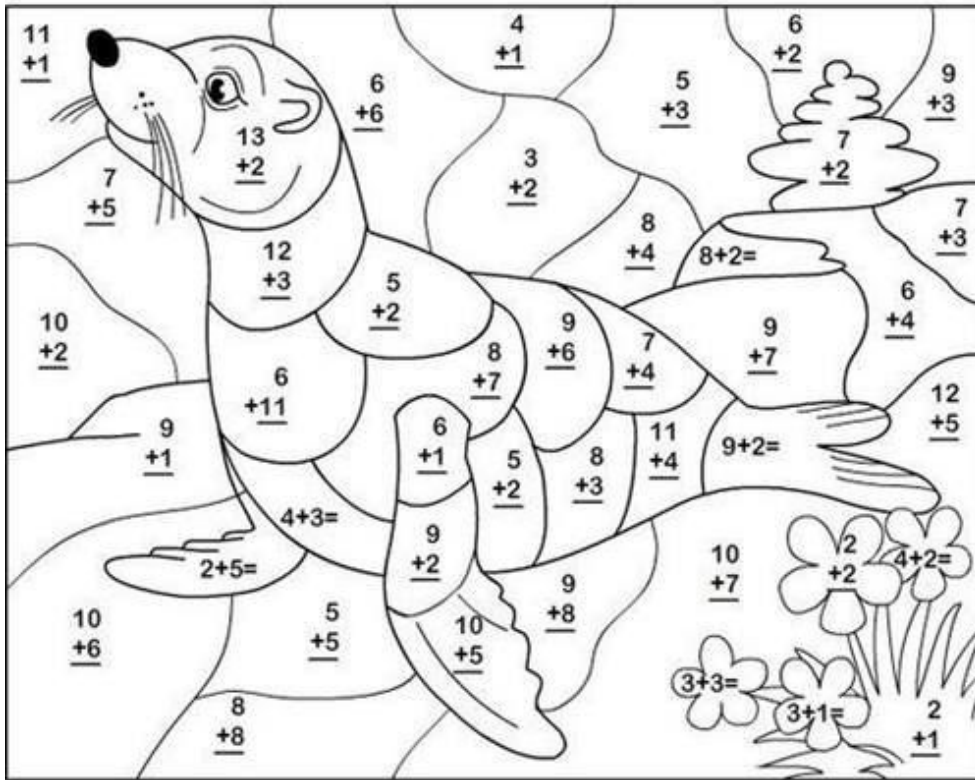
Těším se na vás v matematice.

<u>Geometrie</u>	<ul style="list-style-type: none">• Zdravím Vás a zasílám Vám podklady pro další hodinu geometrie, na které budeme společně RÝSOVAT A MĚŘIT ÚSEČKY.• Na online hodinu si nachystejte geometrický sešit, pravítko, ořezanou tužku č. 3, Matematiku 6 a vystřihněte si níže napsaný text – <u>Rýsování úseček dané délky</u>.
-------------------------	---

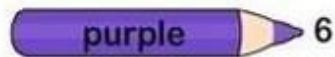
Rýsování úseček dané délky

Při rýsování úseček dané délky postupujeme takto:

1. Narýsujeme přímou čáru (přímku).
2. Na přímce vyznačíme jeden krajní bod úsečky.
3. Přiložíme pravítko nebo měřítko
tak, aby bod nula ležel přesně na krajním bodu úsečky.
4. Odměříme danou délku úsečky.
5. Vyznačíme druhý krajní bod úsečky.




Nazarca.com



Odčítání s přechodem přes desítku

20. Vylušti rébus a vypočítej příklady. Potom vymysli další příklady pro spolužáky.

	1	2	3
A	8	33	4
B	45	24	7
C	6	51	66



B2 - A1 =

C2 - A3 =

A2 - B3 =

C3 - A1 =

B1 - C1 =

B2 - C1 =

21. Příklady se rozházely. Na linku zapiš dva příklady na odčítání.

menšenec
37

menšitel
9

rozdíl
27

rozdíl
28

menšitel
8

menšenec
35

.....

.....

Zaokrouhlování na desítky

1. Zapiš, z kolika desítek a jednotek se číslo skládá.

58 = desítek a jednotek

95 = desítek a jednotek

37 = desítky a jednotek

21 = desítky a jednotka

13 = desítka a jednotky

74 = desítek a jednotky

2. Zakroužkuj pouze celé desítky. U ostatních čísel **desítky** obtáhni červeně a **jednotky** modře.

15 18 27 30 90 56 98 70 63 57 12 24 65 80 48 60 31 29 40 89 10

3. Spoj číslo v kroužku s desítkami, mezi kterými leží.

10
61
40
26
20
80
83

60
47
70
50
34
30
90