
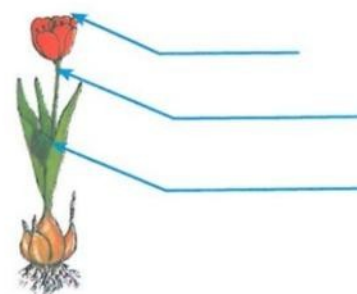


Samostatná práce: splň úkoly a nalep do sešitu

Vyhledejte v osmisměrce názvy částí těl rostlin a připište je k obrázkům. Ze zbylých písmen sestavte tajenku.



N	V	K	O	R	U	N	A
K	E	N	O	T	S	D	L
V	T	M	T	Ř	O	U	I
Ě	Ě	L	K	L	E	I	S
T	V	P	P	Á	N	N	T



Tajenka:

--	--	--	--	--	--	--	--

Rostliny, které mají **dužnatý** (nedřevnatý) **stonek**, nazýváme **byliny**.

Byliny

- Pozorujte na obrázcích stonky různých bylin a všimněte si odlišností v jejich stavbě.



pampeliška



jitrocel



mateřídouška



kopretina



žito




ječmen

stvol
stonek bez listů

lodyha
stonek s listy

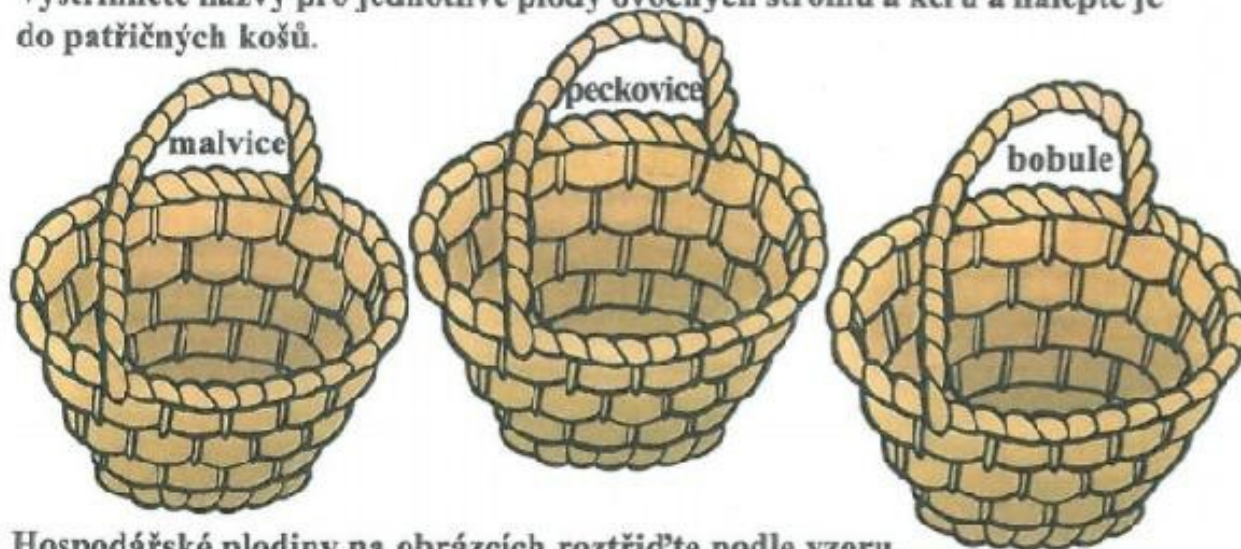
stéblo
stonek většinou dutý
s kolénky

Vystříhnete názvy pro listovou, kořenovou, plodovou a cibulovou zeleninu, rozřídíte je a nalepte.



Který druh zeleniny chybí? _____ . Vypište některé zástupce: _____ .

Vystříhnete názvy pro jednotlivé plody ovocných stromů a keřů a nalepte je do patričních košů.



Hospodářské plodiny na obrázcích rozřídíte podle vzoru.

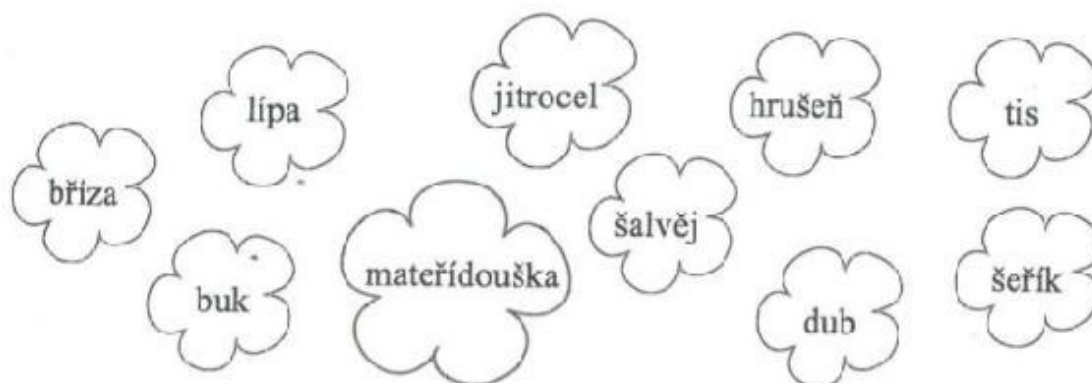
- luskoviny
- obilniny
- okopaniny
- píceiny



- špenát
- mrkev
- petržel
- salát
- ředkvička
- okurka
- rajče
- cibule
- česnek
- paprika
- švestka
- jablko
- meruňka
- hruška
- rybíz
- angrešt
- višeň
- třešeň
- broskev
- hrozny

Online výuka:

Vybarvěte pouze květy s názvy rostlin, které mají dřevnatý stoněk.



Jak nazýváme ostatní rostliny? _____

Najděte mezi slovy na řádku slovo, které do řady nepatří. Zdůvodněte proč.

a) lípa, smrk, břiza, liška, dub, javor

Nepatří sem _____, protože _____

b) dub, buk, lípa, jitrocel, jirovec maňal, javor

Nepatří sem _____, protože _____

c) javor, smrk, dub, buk, lípa, jirovec maňal

Nepatří sem _____, protože _____

d) jablůň, buk, dub, olše, vrba, lípa

Nepatří sem _____, protože _____

Doplňte neúplné věty.



Stoněk trav většinou dutý s kolénky se nazývá _____.



Stoněk bez listů se nazývá _____.



Stoněk s listy se nazývá _____.