

VI 4. ročník 1. - 5. 3. 2021

uč. s. 4 a 5

Poloha České republiky

Naše vlast se nazývá _____

Nachází se _____

Je to _____, protože _____

ČR sousedí se _____ (doplň obrázek):

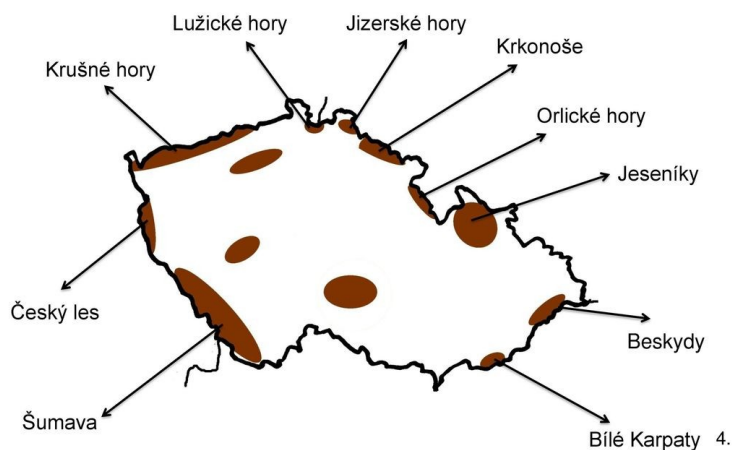
- _____
- _____
- _____
- _____



Území těchto států jsou od sebe oddělena

Státní hranice může být

POHRANIČNÍ POHOŘÍ



Dnešní území našeho státu vzniklo ze _____:

- _____
- _____
- _____

Toto členění má původ ve



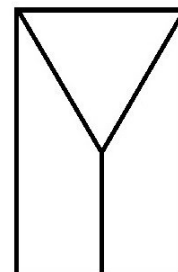
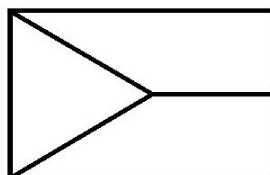
Každá historická země má z minulosti

Tyto znaky jsou součástí _____

Státní symboly ČR

Všechny státy mají své vlastní _____. ČR jich má _____:

- 1) _____
- 2) _____
- 3) _____
- 4) _____
- 5) _____
- 6) _____
- 7) _____



KDE DOMOV MŮJ, KDE _____ MŮJ.
VODA _____ PO LUČINÁCH, BORY
ŠUMÍ PO _____. V SADĚ SKVÍ
SE Z JARA _____, ZEMSKÝ _____ TO
NA POHLED.
A TO JE TA ČESKÁ _____, ZEMĚ
ČESKÁ, DOMOV _____.
ZEMĚ ČESKÁ, _____ MŮJ.

<https://www.youtube.com/watch?v=vOtoPi9hfCo>

<https://www.youtube.com/watch?v=kLj4pFNFrU>

Vysvětli, co znamenají obrázky:

